

## THAI SIGN TEST 2

นี่คือข้อสอบเกี่ยวกับเครื่องหมายต่างๆ บนถนน ข้อสอบนี้มีคำถามทั้งหมดสิบสองข้อ ด้านล่างของคำถามแต่ละข้อจะมีเครื่องหมายสามเครื่องหมาย และช่องสี่เหลี่ยมสามช่องสำหรับคำตอบ เลือกเครื่องหมายที่ท่านคิดว่าถูกต้องและกาเครื่องหมาย "X" ลงในช่องสี่เหลี่ยมที่ตรงกับหมายเลขนั้นๆ บรรทัดแรกเป็นตัวอย่าง

---

คำถามตัวอย่าง: เครื่องหมายใดต่อไปนี้บอกท่านว่ามีทางข้ามทางรถไฟอยู่ข้างหน้า



1.



2.



3.

1.   
2.   
3.

---

1. เครื่องหมายใดที่บอกท่านว่ามีทางเลี้ยวซ้ายอยู่ข้างหน้า



1.



2.



3.


1.   
2.   
3.

---

2. เครื่องหมายใดที่บอกท่านว่าท่านสามารถทำอะไรได้เมื่อลูกศรไฟเขียวปรากฏขึ้น



1.



2.



3.

1.   
2.   
3.

---

3. เครื่องหมายใดที่บอกท่านว่าท่านสามารถทำอะไรได้เมื่อลูกศรไฟสีเขียวปรากฏขึ้น



1.



2.



3.

1.   
2.   
3.

---

4. เครื่องหมายใดที่บอกท่านว่าท่านจะต้องไม่เลี้ยวที่นี่



1.



2.



3.

1.   
2.   
3.

---

5. เครื่องหมายใดที่บอกท่านว่าท่านจะต้องใช้ทางเบี่ยง



1.



2.



3.

1.   
2.   
3.

---


6. เครื่องหมายใดที่บอกท่านว่ามีคนงานกำลังทำงานอยู่บนถนนข้างหน้า



1.



2.



3.

1.   
2.   
3.

---

7. เครื่องหมายใดที่บอกท่านว่ามีถนนลูกรังอยู่ข้างหน้า



1.



2.




3.

1.   
2.   
3.

---

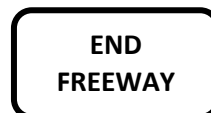
8. เครื่องหมายใดที่บอกท่านว่าท่านจะต้องออกจากถนนเส้นปัจจุบันถ้าท่านอยู่ในเลนข้างขวา



1.



2.



3.

1.   
2.   
3.

---

9. เครื่องหมายใดที่บอกท่านว่าท่านจะกลับรถไม่ได้



1.



2.



3.

1.   
2.   
3.

---

10. เครื่องหมายใดที่บอกท่านว่าถนนข้างหน้าปิด



1.



2.



3.

- 1.
- 2.
- 3.

11. เครื่องหมายใดที่บอกท่านว่าถนนนี้มีเกาะกลางถนนหรือแนวเส้นแบ่งถนนอยู่ที่กึ่งกลางถนน



1.



2.



3.

- 1.
- 2.
- 3.

12. เครื่องหมายใดที่บ่งบอกว่ามีเลนสำหรับแซงอยู่ข้างหน้า



1.



2.



3.

- 1.
- 2.
- 3.